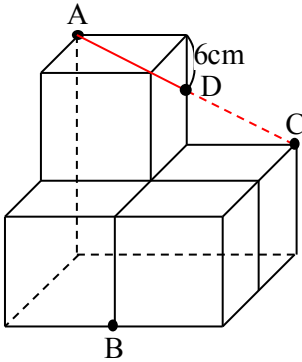




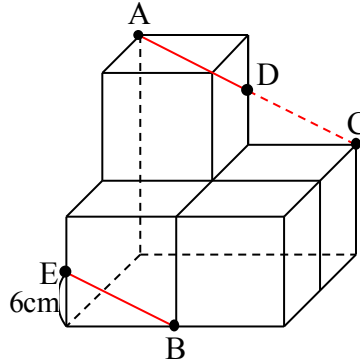
★今週の1題★ 立体の切断 ~解説~

※ 切り口を作図する手順

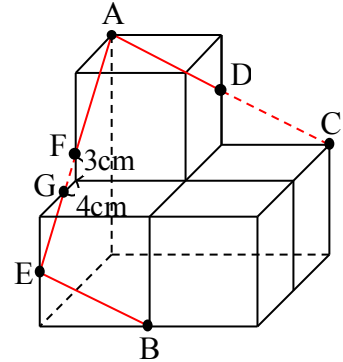
① AとCを結ぶ



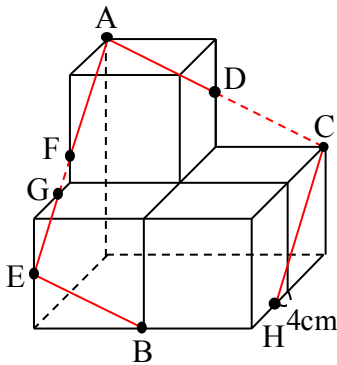
② BからACと平行な直線を引く



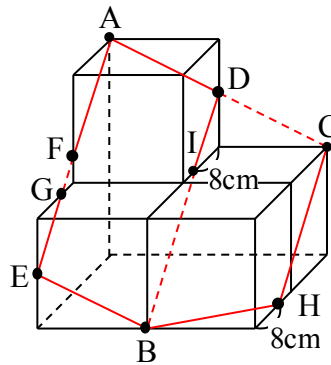
③ AとEを結ぶ



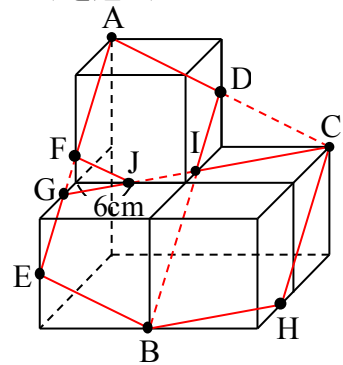
④ CからAEと平行な直線を引く



⑤ BとH、DとBを結ぶ

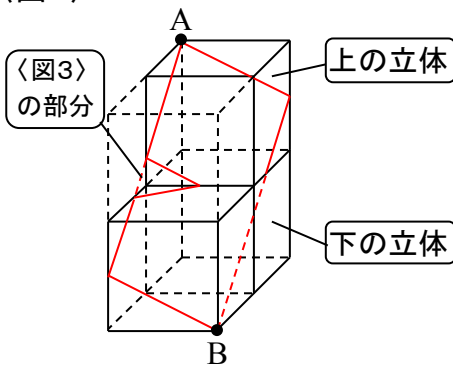


⑥ CとGを結ぶ ⇨ FとJを結ぶ (Iを通る)

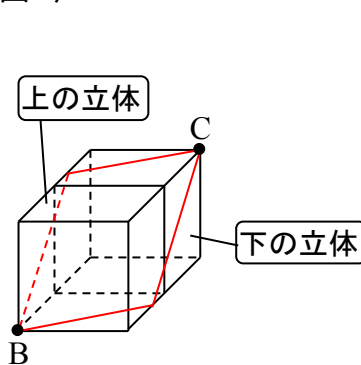


〈図1〉、〈図2〉のように2つに分けて考えます。

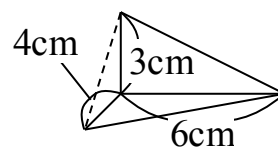
〈図1〉



〈図2〉



〈図3〉



(1) 〈図1〉と〈図2〉の2つに分けると、〈図2〉のほうは2つの立体の体積が等しいことがわかります。〈図1〉のほうは、もし、点線の部分にもう1つ立方体があったならば両者の体積は等しいこととなります。

よって、上の立体は、立方体2個分よりも立方体1個分から〈図3〉の三角すいの体積を除いた分だけ減っています。

また、下の立体は、立方体2個分よりも〈図3〉の三角すいの体積の分だけ減っています。

よって、2つの立体の体積の差は

$$12 \times 12 \times 12 - 6 \times 4 \times \frac{1}{2} \times 3 \times \frac{1}{3} \times 2 = 1704 \text{ (cm}^3\text{)} \quad \dots \text{(答)}$$

(2) <図1>と<図2>で、<図1>にもう1つ立方体があり、両者が離れていれば、表面積は等しいこととなります。

その等しい状態からの増減を考えます。

まず、4つの立方体から3つに減ると、

正方形2面分の面積が減ります。

そのうち、上の立体につき減った部分を

<図4>の斜線部であらわしました。

また、元々は<図1>の立体と<図2>の立体は

つながっていたので、その断面の面積も

減ることとなります。

<図4>の「あ」は上の立体、「い」と「う」は

下の立体にかかりますが、「あ」と「い」は

等しいので、「う」の分だけカウントします。

<図2>の立体についても同じなので、

結局、「う」の2倍だけ下の立体の方が多く減ることとなります。

また、<図5>の部分に関しては、

$\triangle FGK$ の面積の分だけ下の立体が減り、

また、 $\triangle FKJ$ と $\triangle KGJ$ の面積の分だけ上の立体が減り、下の立体が増えています。

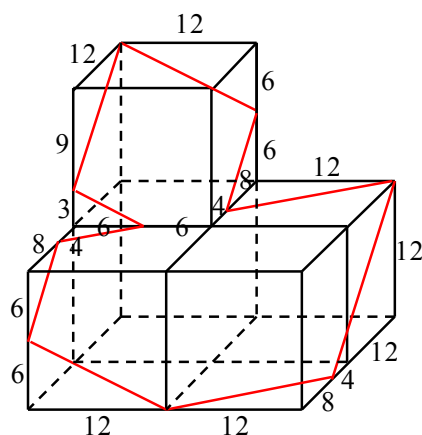
以上をまとめると

	上の立体		下の立体		式
	増	減	増	減	
正方形2面分		288			$12 \times 12 \times 2 = 288 \text{ (cm}^2\text{)}$
「う」2個分				192	$8 \times 12 \times 2 = 192 \text{ (cm}^2\text{)}$
$\triangle FGK$	6			6	$4 \times 3 \times \frac{1}{2} = 6 \text{ (cm}^2\text{)}$
$\triangle FKJ$ と $\triangle KGJ$		21	21		$(3 + 4) \times 6 \times \frac{1}{2} = 21 \text{ (cm}^2\text{)}$
合計	6	309	21	198	
		303(減)		177(減)	

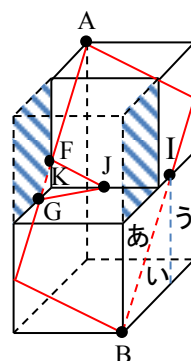
よって

$$303 - 177 = 126 \text{ (cm}^2\text{)} \quad \dots \text{(答)}$$

※ 右の図のように長さを書いておくと便利です。



<図4>



<図5>

